



1) 請依(1a) 及 (1b)的題意畫出樹圖。

1a) 1 個盛滿水的  可注滿  個  ，



1 個盛滿水的  可注滿  個  。

1b)承上題， 1 個盛滿水的  可注滿  個  。



樹圖：



承上題，根據 (1a) 及 (1b) 的樹圖，回答(1c - 1e)題：



1c) 問 1 個盛滿水的  可注滿 \_\_\_\_\_ 個  。



1d) 問  個盛滿水的  可注滿 \_\_\_\_\_  。



\*1e) 如果 1 個  可注滿 6 個  ，

1 個  可注滿 \_\_\_\_\_ 個  。

2) 1 個盛滿水的  可注滿  個  ，



1 個盛滿水的  可注滿  個  ，

1 個盛滿水的  可注滿  支  。



問：2a) 1 個盛滿水的  可注滿 \_\_\_\_\_ 支  。

問：2b)  支盛滿水的  可注滿 \_\_\_\_\_ 個  。

樹圖：

3) 1 個盛滿水的  可注滿  個  ,



1 個盛滿水的  可注滿  個  ,


1 個盛滿水的  可滿  支  。



問: 3a) 1 個盛滿水的  可注滿 \_\_\_\_\_ 支  。

問: 3b)  個盛滿水的  可注滿 \_\_\_\_\_ 個  。



樹圖：

4) 1 個盛滿水的  可注滿  個  ,

1 個盛滿水的  可注滿  個  ,

1 個盛滿水的  可注滿  支  ,

1 個盛滿水的  可注滿  支  。

問: 1 個盛滿水的  可注滿 \_\_\_\_\_ 個  。

樹圖：