

鳳溪第一小學

數學科

三角形學習冊



姓名：

班別：三（ ）

小朋友，在完成這次「三角」之旅後，
跟我們分享一下感受吧！把代表答案的○塗滿。



1) 誰是書中的主角？

- A 斯貝 B 伊格尼 C 艾維索 D 小松鼠

2) 書中的主題是什麼？

- A 分數 B 三角形 C 沙漠 D 邊長

3) 寫出本書曾提及的三角形。

4) 我看過相似的故事。

- 是 不是

5) 我喜歡老師跟我們說的這個故事。

- 是 不是

6) 試總括你這幾節數學課堂的感受。

第_____節

今天我學會了...



我能創造出...

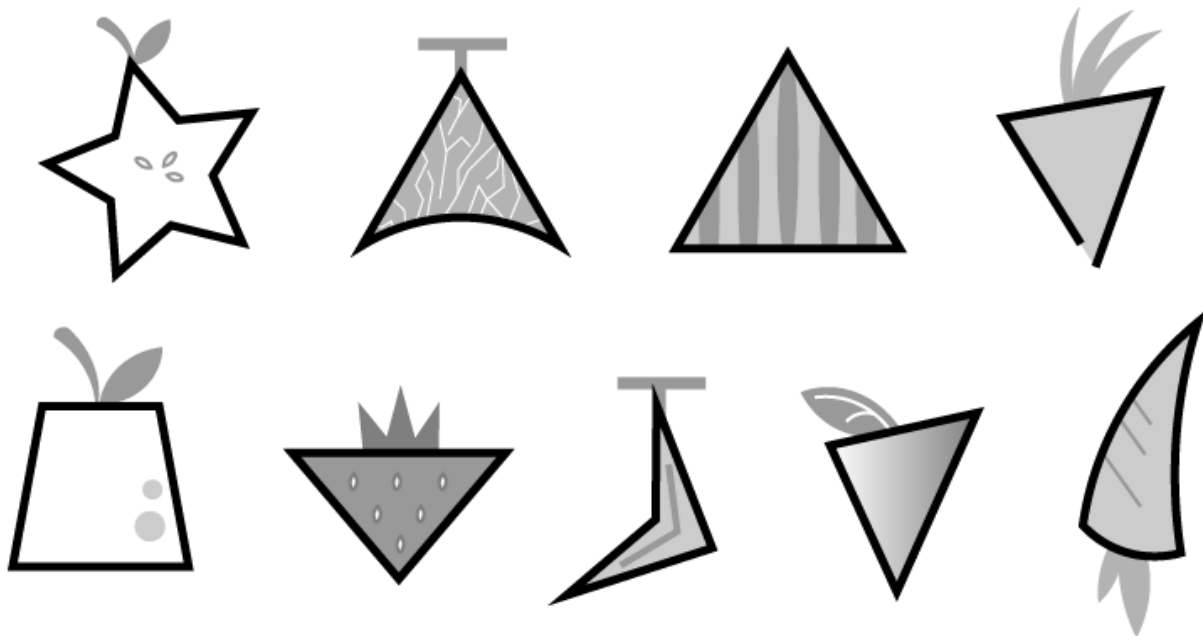



我的感受...




練習一 三角皇國市場內有很多水果，哪些水果是三角形


呢？請圈出三角形的水果。



斯貝買了很多水果，快把水果都放進去等腰三角形的水果籃中，

請圈出等腰三角形的水果籃。





小朋友，斯貝非常感謝你陪伴這個旅程，

現在你對不同種類的三角形有一定的認識了嗎？

請完成下面的練習吧！

請在橫線上寫出三角形的名稱。

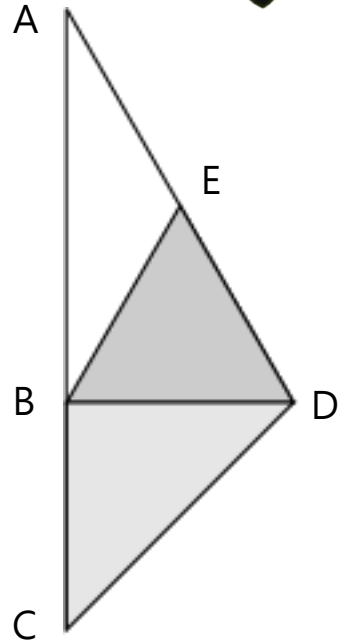
三角形 ABE 是_____三角形。

三角形 BDE 是_____三角形。

三角形 ABD 是_____三角形。

三角形 BCD 是_____三角形。

三角形 ACD 是_____三角形。



右圖中，有：

等邊三角形_____個。

等腰三角形_____個。

直角三角形_____個。

直角等腰三角形_____個。

不等邊三角形_____個。

